

Муниципальная олимпиада по математике

2 класс

апрель 2026 г.

Дорогой друг!

- Предлагаем тебе выполнить олимпиадные задания по математике.
- Если при ответе на вопрос ты допустил ошибку – не волнуйся, просто аккуратно зачеркни неправильный ответ и рядом напиши правильный.
- Пропусти задание, которое не удаётся выполнить сразу, и переходи к следующему. К выполнению пропущенных заданий ты можешь вернуться, если останется время.
- На выполнение всех заданий даётся 60 минут.
- Баллы, полученные за выполненные задания, суммируются.
- Необходимо выполнить как можно больше заданий и набрать наибольшее количество баллов.

1. Вставь в клетки пропущенные цифры, чтобы записи стали верными.

$$3 \square - 17 = \square 6$$

$$3 \square + \square 7 = 85$$

$$9 \square - 64 = \square 9$$

2. Продолжи ряд чисел:

1, 2, 3, 5, 8, _____, _____, _____, _____.

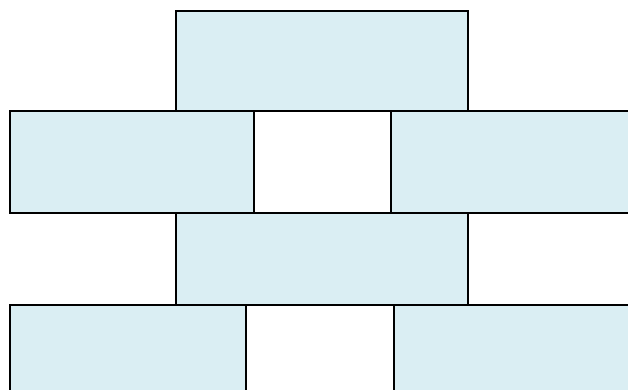
3. Серёжа шёл по лестнице. Шагая через две ступеньки, он считал: «Один, два, три, четыре...». Когда ему нужно было сказать пять, то оказалось, что осталась одна ступенька. Сколько всего ступенек на лестнице?

Ответ: _____.

4. Веселая бабушка пирата собралась в гости к внуку и взяла с собой 6 любимых чемоданов ярких цветов: белого, жёлтого, красного, зелёного, синего и фиолетового. Она сложила чемоданы наподобие кирпичиков, и вот что у неё получилось:

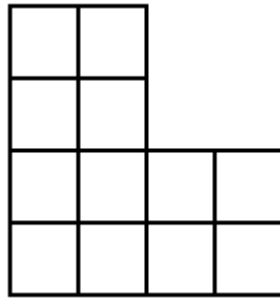
- а) красный чемодан лежит ниже жёлтого;
- б) зелёный чемодан не лежит внизу;
- в) белый чемодан касается верхних крышек синего и фиолетового чемоданов.

Подпиши цвет каждого чемодана.




5. Фигура состоит из 12 равных квадратов. Раздели эту фигуру на четыре равные части.

Место для тренировки:



ОТВЕТ:

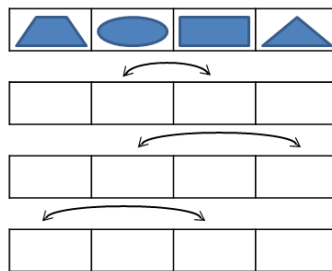


- 6. Сколько девочек в этом классе? Запиши ответ.**

"Сколько девочек в вашем классе?" - спросил Яша у Гали. Галя, подумав немного, ответила: "Если отнять от наибольшего двузначного числа число, записанное двумя восьмерками, и к полученному результату прибавить наименьшее двузначное число, то как раз получится число девочек в нашем классе."

Ответ: _____

- 7. Переставь фигуры так, как показывают стрелки. Как будет выглядеть нижняя строка?**



- 8.** Коротышки из солнечного города решили заниматься спортом. Гимнастику выбрали 12 коротышек, бокс – на 4 меньше, чем гимнастику, а футбол – на 5 коротышек больше, чем бокс. Сколько коротышек занялись спортом? Какой вид спорта они предпочитают?



Запиши решение задачи по действиям с пояснениями, напши ответ.

[illegible]

Ответ: _____.